
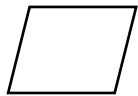
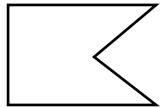



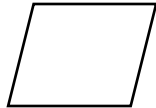

## משימת מצולעים

1. כיתבו בתוך כל צורה את מספר הצלעות.

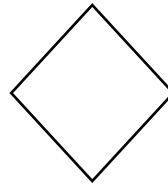

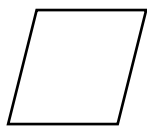
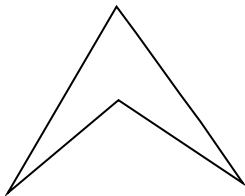
2. הקיפו את הקבוצה שבה מופיעים רק מרובעים.



קבוצה א

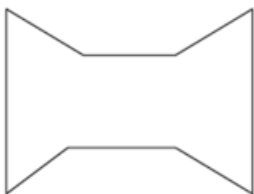


קבוצה ב

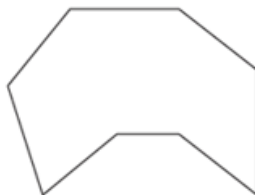


קבוצה ג

3. הקיפו את הצורה שאין לה 8 צלעות.



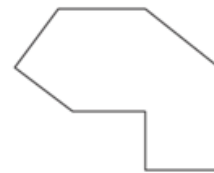
ד



ג



ב



א